


المدرسة الابتدائية	اختبار الثلاثي الأول	القسم : الثانية
المربية	المادة : رياضيات	اسم التلميذ ولقبه : .....

السند 1

خِلَالَ الْعُطْلَةِ زَارَ أَحْمَدُ وَ يَاسْمِينُ وَ رِيَّانُ جَدَّهُمُ الْمُقِيمُ فِي الرَّيْفِ. وَ هُنَاكَ شَاهَدُوا الْعَدِيدَ مِنَ الْحَيَوَانَاتِ.



يَمْلِكُ الْجَدُّ 54 نَعْجَةً وَ 35 خَرُوفًا وَ 61 حَمَامَةً

التعليمة 1: أَحْسِبْ عَدَدَ رُؤُوسِ الْأَغْنَامِ الَّتِي يَمْلِكُهَا الْجَدُّ


.....

التعليمة 2: أَرْتَبْ أَعْدَادَ الْعَمَلِيَّةِ تَصَاعُدِيًّا

.....

السند 2

عَدَّ أَحْمَدُ الْأَبْقَارَ فَوَجَدَهَا 28 بَقْرَةً وَ 18 عِجَلًا أَمَّا الْعِزْزَاتُ فَعَدَّهَا 54.



التعليمة 1: أَحْسِبْ عَدَدَ هَذِهِ الْأَبْقَارِ

.....

التعليمة 2: أَضَعْ عَلَامَةَ الْمُقَارَنَةِ الْمُنَاسِبَةَ

28 . 18

السند 3

عَدَّتْ يَاسْمِينُ مَا فِي قَنِّ الدَّجَاجِ فَوَجَدَتْ 47 دَجَاجَةً وَ 33 بَطَّةً وَ 56 بَيْضَةً





التعليمة: أَحْسِبْ عَدَدَ الطُّيُورِ بِالْقَنِّ

.....

السند 4

كَافَى الْجَدُّ أَحْفَادَهُ فَأَعْطَاهُمْ نُقُودًا فَاشْتَرَوْا بِهَا مَرَطَبَاتٍ لَذِيذَةً هَذِهِ الْمَبَالِغُ الَّتِي بَقِيَتْ لِلْأَطْفَالِ بَعْدَ شِرَاءِ الْمَرَطَبَاتِ

مَبْلَغُ أَحْمَدَ	مَبْلَغُ يَاسْمِينِ	مَبْلَغُ رِيَّانَ
		
..... مي	90 مي	55 مي


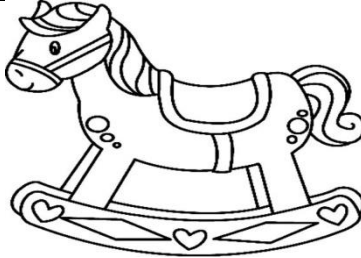

التعليمة 1 / أَحْسِبْ نُقُودَ أَحْمَدَ

التعليمة 2 / أُمَثِّلُ الْمَبْلَغَ الَّذِي بَقِيَ لِيَاسْمِينِ

التعليمة 3 / أَوَاصِلُ تَمَثِيلَ نُقُودِ رِيَّانَ

السند 5:

أَرَادَ رِيَّانُ شِرَاءَ لُعْبَةٍ لِأُخْتِهِ الصَّغِيرَةِ يَقِينِ بِالْمَبْلَغِ الَّذِي بَقِيَ عِنْدَهُ.  
أُسَاعِدْهُ عَلَى إِخْتِيَارِ اللَّعْبَةِ الْمُنَاسِبَةِ:

سَيَّارَةٌ	حِصَانٌ	نَظَّارَاتٌ
		
87 مي	51 مي	63 مي

التعليمة 1 أَرْتَبُ هَذِهِ الْأَثْمَانَ تَنَازُلِيًّا

.....

التعليمة 2 مَا هُوَ اسْمُ اللَّعْبَةِ الَّتِي يَسْتَطِيعُ رِيَّانُ شِرَاءَهَا  
لَأنَّ .....

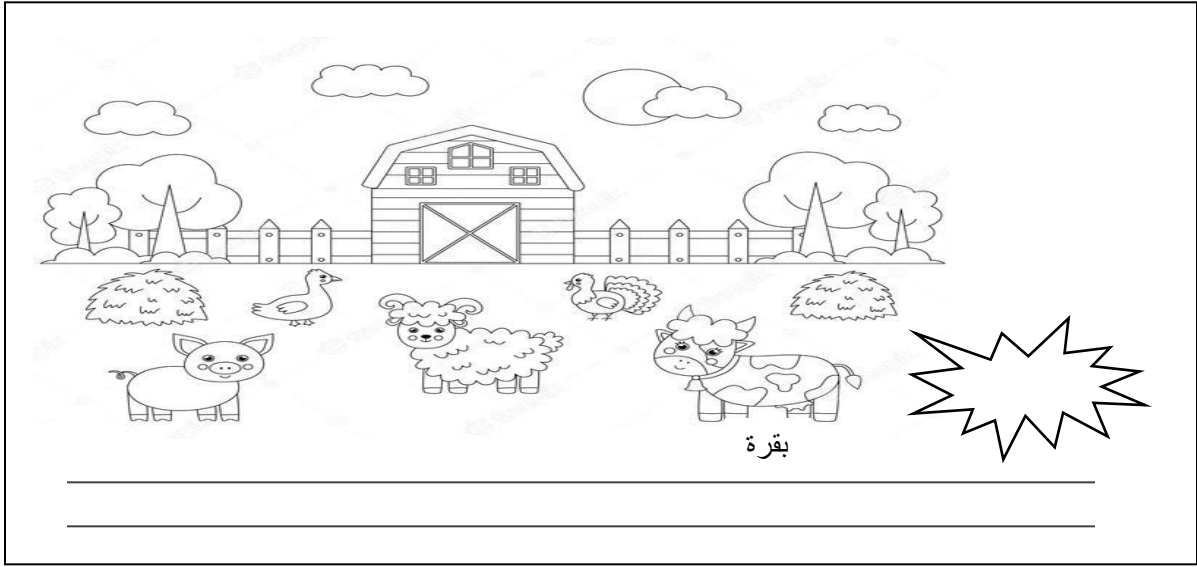
مع3

مع12

مع5

السند 5:

بَعْدَ ذَلِكَ ذَهَبَ الْأَطْفَالُ لِلْعِبِّ مَعَ حَيَوَانَاتِ الضَّيْعَةِ:



التعليمية 1: أُتِمِّمْ بِمَا يُنَاسِبُ:

- السُّحْبُ هِيَ خُطُوطٌ .....
- الشَّكْلُ الْمَوْجُودُ وَرَاءَ الْبَقَرَةِ هُوَ حَظٌّ .....
- التعليمية 2: أَلَوْنُ حَظٍّ مُسْتَقِيمًا فِي الْمَشْهَدِ بِالْأَخْضَرِ.

جدول إسناد الأعداد

معايير الحد الأدنى						المعايير مستويات التملك
مع 5	مع 4	مع 3	مع 2	مع 2	مع 1	
0	0	0	0	0	0	انعدام التملك (---)
2	1	2.5	1.5	0.75	0.25	دون التملك الأدنى (- - +)
2	1.5	3	2.5	1	0.5	التملك الأدنى (- + +)
4	2	4.5	3.5	1.25	0.75	التملك الأقصى (+ + +)

الحِسَابُ الدِّهْنِيُّ

- ✓ مَجْمُوع 6 و 8 هُوَ .....
- ✓ الْعَقْدُ الَّذِي يَسْبِقُ مُبَاشَرَةً الْعَدَدَ 39 هُوَ .....
- ✓ الْعَقْدُ الَّذِي يَلِي مُبَاشَرَةً 60 هُوَ .....
- ✓ أُتِمِّمْ بَرِّيَاةً 5 فِي كُلِّ مَرَّةٍ: 0 - .... - ..... - 15 - 20