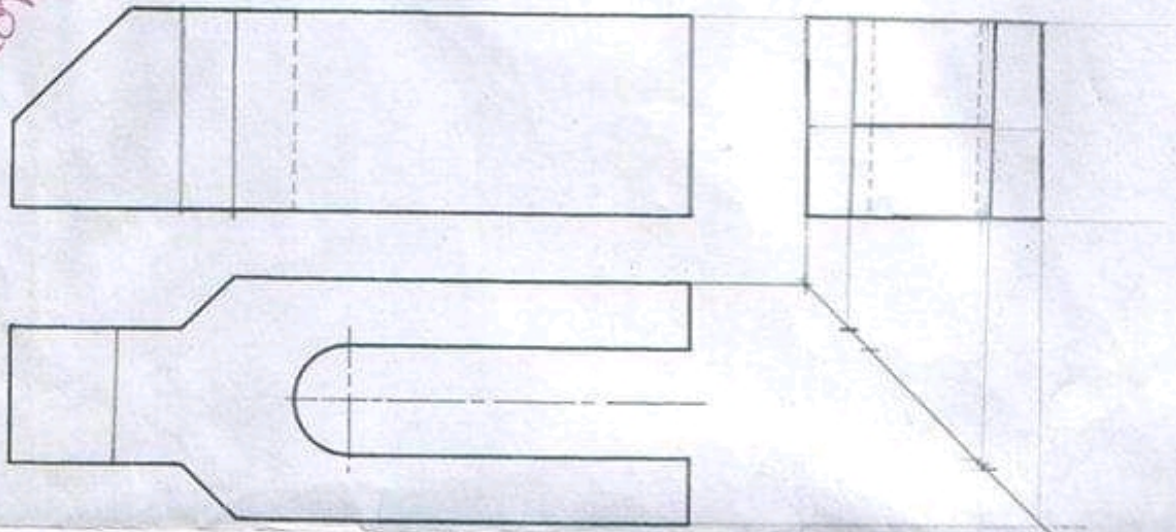
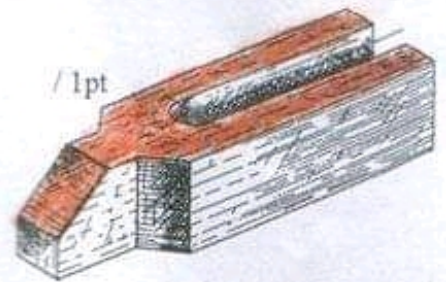


L.B.H	TEST DE CONTROLE N : 2	TECHNOLOGIE
Nom & Prénom : .....	2 <sup>ème</sup> trimestre	Classe : s
N : .....		Durée : 30 min

### Exercice 1 : (projection orthogonale)

On demande de :

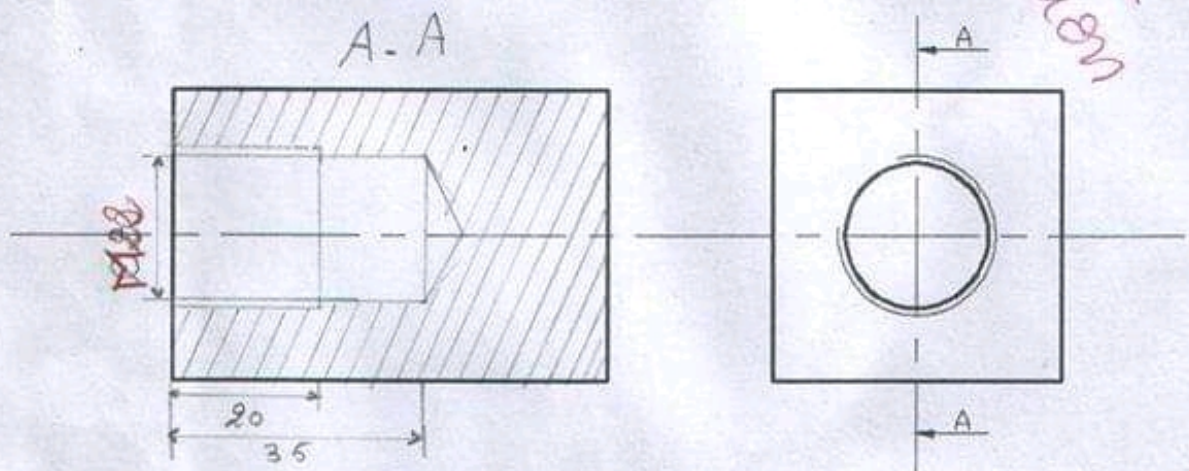
1. Colorier la vue de dessus sur la perspective ci-contre. /1pt
2. Compléter :
  - \*la vue de face. /4pts
  - \*la vue de gauche. /4pts
  - \*la vue de dessus. /4pts



### Exercice 2 : (Représentation des pièces filetées)

On demande de :

- 1-compléter le traçage d'un trou taraudé borgne tels que : /4pts
  - \*Profondeur de perçage : 35 mm.
  - \*Profondeur de taraudage : 20 mm.
- 2- coter le trou taraudé. /3pts



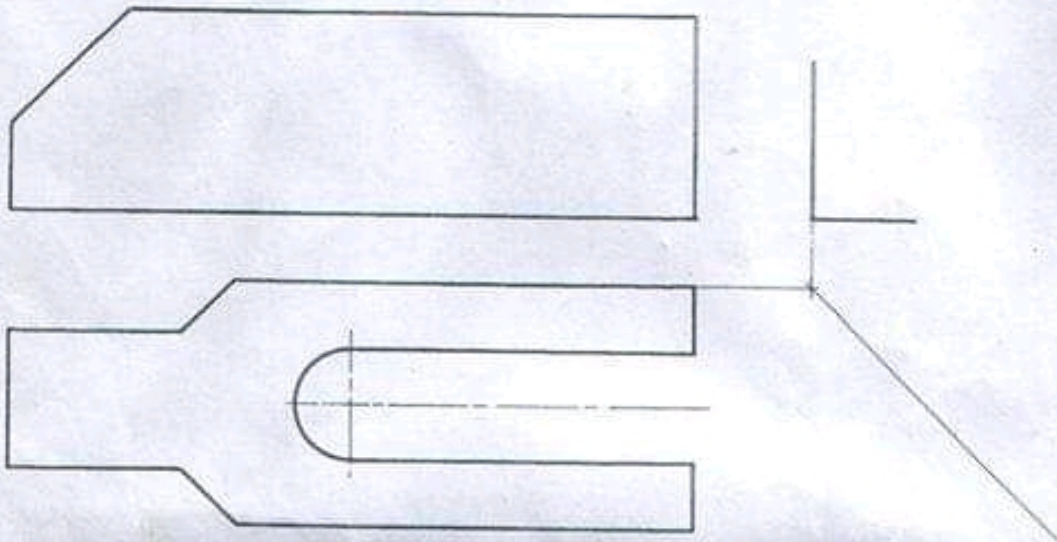
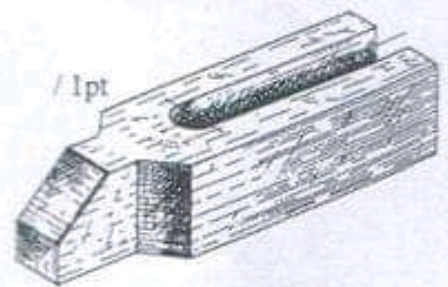


L.B.H	TEST DE CONTROLE N : 2	TECHNOLOGIE
Nom & Prénom : .....	2 <sup>ème</sup> trimestre	Classe : s
.....N : .....		Durée : 30 min

### Exercice 1 : (projection orthogonale)

On demande de :

1. Colorier la vue de dessus sur la perspective ci-contre.
2. Compléter :
  - \*la vue de face. /4pts
  - \*la vue de gauche. /4pts
  - \*la vue de dessus. /4pts



### Exercice 2 : (Représentation des pièces filetés)

On demande de :

- 1-compléter le traçage d'un trou taraudé borgne tels que : /4pts
  - \*Profondeur de perçage : 35 mm.
  - \*Profondeur de taraudage : 20 mm.
- 2- coter le trou taraudé. /3pts

