

نظام قيس

مراجعة القِطْع






النقدية الصادرة

القِطْعُ الْبَيْضَاءُ: (1) (2) (5)

القِطْعُ الْخَضِرَاءُ: (10) (20) (50)

تحرين (1): أَحْسَبُ الْمَبَالِغِ الْمَالِيَّةِ

التالية: ملاحظة: لحساب قيمة القِطْعِ
النقدية يجب البدء بأكبر قطع ثم التي تليها من حيث القيمة

    	    
..... م م
      	    
..... م م

مَكَ حَفْطُهُ. لِتَحْمِيلِ فَتَلْجِ مَالِي يَبْدَأُ التَّلْجِيدَ يَتَحْمِيلُ
رَقْمِ الْكَحَادِ بِالْقَطْعِ التَّقْدِيرُ الْخُتْمُ ثُمَّ يَحْمِلُ
رَقْمِ الْعُصْرَاتِ بِأَقْلٍ مَا يُعْطَى مِنَ الْقَطْعِ التَّقْدِيرُ.

تَحْرِينٌ ②

أَقْلُ الْعَبَاغِ الْمَالِيَةِ الثَّالِيَةِ بِأَقْلٍ مَا يُعْطَى مِنَ الْقَطْعِ
التَّقْدِيرُ :

6 8 مِ	7 5 مِ
8 4 مِ	9 9 مِ
9 3 مِ	7 9 مِ

نمرين ③

٤ كَمِّلْ تَحْمِيلَ الْمَبَايِغِ الْمَالِيَّةِ الشَّالِيَةِ:

٧ ٤ مِ	٨ ٩ مِ
 	 
٦ ٥ مِ	٩ ٧ مِ
	
٥ ٣ مِ	٨ ٦ مِ
 	

أَرْبَعُ الْمَبَايِغِ الْمَالِيَّةِ السَّابِقَةِ
تُرَتَّبُ نَتِيجًا نَتِيجًا.

أَخِيرُ ٨ ٦
بين عقدتين متتاليتين:
> ٨ ٦ >

مراجعة رياضيات

آلْ عَدَادُ مِنْ 0 إِلَى 99

تمرين ① أَلْ حِطُّ أَلْ عَدَادِ
وَأَرْيِبْهَا فِي الشَّرِيْطِ مِنْ أَلْ مُغَرِّ
إِلَى أَلْ كَبْرِ:

66
44 - 55

85
58 - 42

77
89 - 88

69
78 - 33

35
84 - 65

--	--	--

--	--	--

--	--	--

--	--	--

--	--	--

تمرين ② أَرْيِبْ أَلْ عَدَادَ الْتَالِيَةِ
تَنَازُلِيًّا:

67 - 76 - 54 - 89 - 98 - 45

تمرين ③ أَعْمُرُ الْجَدَّ وَآلَ الْتَالِيَةِ
بِكِتَابَةِ الْعَدَدِ الَّتِي يَلِيهِ وَالْعَدَدِ الَّتِي يَسْبِقُ

العدد السابق	العدد	العدد الذي يليه
...	79	...
...	88	...
...	98	...

تمرين (4) اكتب الأعداد التالية
بلسان القلم:

: 84

: 57

: 99

: 46

: 75

تمرين (5) اكمل الشريط العددي:

40	...	43			47	...	51	...
----	-----	----	--	--	----	-----	----	-----

تمرين (6) اربط الأرقام التي تعيل
نفس العدد:

ثمانين وثمانون

48

90 + 9

ثمانين وأربعون

56

40 + 8

سبعة وخمسون

99

80 + 8

ثلاثة وتسعون

88

90 + 9




اَكْتُبْ عَلَى كُرَّاسِ الرِّيَا ضِيَا ت

نِصْفُ الْعَدَدِ	ضِعْفُ الْعَدَدِ
نصف 10 ← 5	ضعف 1 ← 2
نصف 20 ← 10	ضعف 2 ← 4
نصف 30 ← 15	ضعف 3 ← 6
نصف 40 ← 20	ضعف 4 ← 8
نصف 50 ← 25	ضعف 5 ← 10
نصف 60 ← 30	ضعف 6 ← 12
نصف 70 ← 35	ضعف 7 ← 14
نصف 80 ← 40	ضعف 8 ← 16
نصف 90 ← 45	ضعف 9 ← 18

لِلْحِفْظِ

المائة

① كَمِّلْ بِالنَّقْدِ الْمُنَاسِبِ:

100 ي	100 ي	100 ي
		

② اكْتُبِ الْأَعْدَادَ الثَّالِيَةَ فِي الْجَدْوَلِ:

آحَاد	عَشْرَات	مَائَة

10 عَشْرَة	6 عَشْرَة
7 عَشْرَة	4 عَشْرَة
5 عَشْرَة + 8 آحَاد	3 عَشْرَة + 2 آحَاد

ضَع مَكَانَ النُّقْطَةِ عِدَدًا مُنَاسِبًا

100 > .
. < 100
100 = . + .
100 = . + 30 + 60

③ ضَع مَكَانَ النُّقْطَةِ إِحْدَى عِلَامَاتِ الْمُقَارَنَةِ (<) = (>)

20 + 50	100
30 + 70	40 + 30
100	58 + 32
55 + 45	30 + 40 + 30

④ رَتِّبِ الْأَعْدَادَ التَّالِيَةَ :

63

71

100

17

35

تَصَاعُدِيًّا :

تَنَازُلِيًّا :

⑤ ضَعِ كُلَّ عَدَدٍ مِنَ الْأَعْدَادِ التَّالِيَةِ فِي الْمَكَانِ الْمُنَاسِبِ

37 ، 28 ، 99 ، 78 ، 13 ، 66

100	.	81	.	.	52	.	.	.
-----	---	----	---	---	----	---	---	---

⑥ عَمِّرِ الْجَدْوَلَ :

10+85	20+20	2-88	45+30	9+4	26
-------	-------	------	-------	-----	----

أَكْبَرُ مِنْ 85	يَسَاوِي 75	أَصْغَرُ مِنْ 56

⑦ أَرْبِطِ الْعَدَدَ (مِائَةَ) 100 بِالْكِتَابَةِ الْجَمْعِيَّةِ الْمُنَاسِبَةِ :

50 + 15 + 35
05 + 10 + 40
14 + 40 + 46

100

السَّنَدُ : جَمَعَ عَمِّي صَابَةَ الْعَدَلِ فَتَحَصَّلَ
فِي الْيَوْمِ الْأَوَّلِ وَالْيَوْمِ الثَّانِي وَالْيَوْمِ
ثَلَاثًا عَلَى الصَّنَادِيْقِ الْمُبَيَّنَةِ فِي الْجَدْوَلِ الثَّلَاثِي

الْأَيَّامُ	الْعَدَلُ	صَنَادِيْقُ الثَّقَافِ	صَنَادِيْقُ الْإِحْصَانِ	تَجْمُوعُ الصَّنَادِيْقِ
الْيَوْمُ الْأَوَّلُ	15	15	15	-
الْيَوْمُ الثَّانِي	25	10	10	-
الْيَوْمُ الثَّلَاثِي	20	15	15	-

* أَحْسَبُ عَدَدَ الصَّنَادِيْقِ الَّتِي تَحْصُلُ عَلَيْهَا فِي الْيَوْمِ الْأَوَّلِ

* أَبْحَثُ عَدَدَ الصَّنَادِيْقِ الَّتِي تَحْصُلُ عَلَيْهَا فِي الْيَوْمِ الثَّانِي

* كَمْ عَدَدَ الصَّنَادِيْقِ الْمُنْتَحَصِلِ عَلَيْهَا فِي الْيَوْمِ الثَّلَاثِي

* مَا هُوَ عَدَدُ الصَّنَادِيْقِ الْحَمَلِيِّ ؟

* أَكْتُبُ هَذَا الْعَدَدَ فِي الْجَدْوَلِ :

* أبحث عن العدد الناقص ليكون مجموع
العددين مساوياً لـ 100 في كل مرة

50

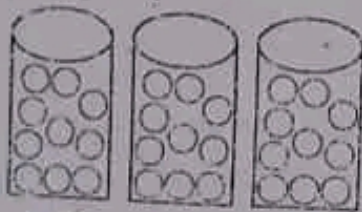
80

60

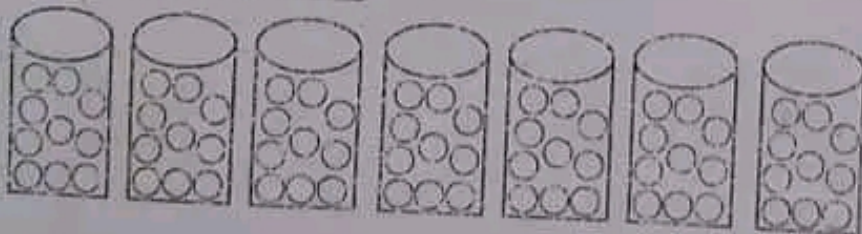
40

10

* أكتب عدد الأرقام بالأشرف ثم بالأدق



بـ الأشرف :
بـ الأدق :



* أكتب كل كتابة أو عدد المناسبة :

مائة هي : —

7 عشرات هي : 70

8 مئتين هي : —

6 مئتين هي : —

10 عشرات هي : —

20 عشرة هي : —